
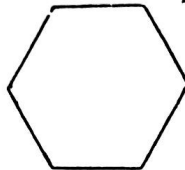
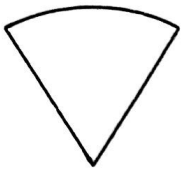


۱ عدد  $7523$  را با حروف بنویسید.

پایز شده ی این عدد را بنویسید

۲ برای شکل های زیر خط تقارن رسم کنید؟



۳ عدد های زیر را روی محور نشان بده.



$\frac{1}{2}$  واحد بعد از عدد ۳



$\frac{3}{4}$  واحد مانده به عدد ۱

$5320 \bigcirc 1967$

$\frac{3}{5} \bigcirc \frac{1}{5}$

۴ علامت  $< = >$  قرار دهید.

$2324 \bigcirc 2224$

$2$  واحد و  $\frac{1}{4}$  واحد  $\bigcirc$

$5$  واحد و  $\frac{2}{3}$  واحد

۵ یک مثلث ..... زاویه دارد و یک مستطیل ..... زاویه راست دارد.

۶ جاهای خالی را کامل کن.

الف) عدد ..... یعنی ۳ بیلیون ۴ ده تایی، صفر صد تایی، ۵ هزار تایی

ب) ۲۷۰۰ گرم یعنی ..... کیلوگرم و ..... گرم


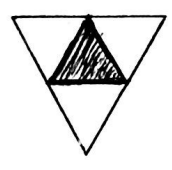
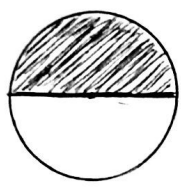
پ) ۳۲۵ سانتی متر یعنی ..... متر و ..... سانتی متر

ت) بهترین وسیله برای کشیدن دایره ..... است.

۷ با رسم شکل حاصل جمع و تفریق را به دست آورید.

$$۱۲۳۲ + ۲۱۵۳$$

۸ برای هر شکل یک کسر بنویس.



۹ حاصل ضرب های زیر را بنویس.

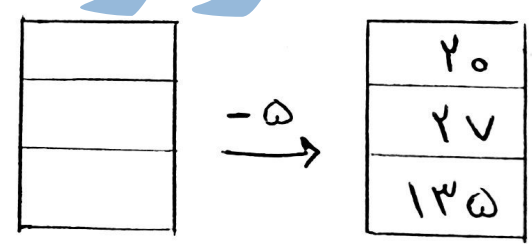
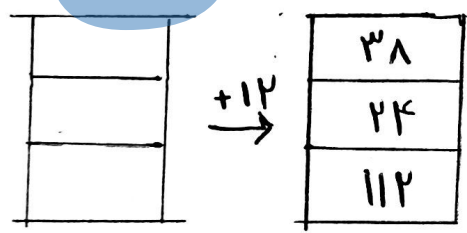
$$۳ \times ۴ =$$

$$۵ \times ۲ =$$

$$۸ \times ۸ =$$

$$۹ \times ۲ =$$

۱۰ با توجه به عدد های خروجی و کاری که ماشین انجام می دهد عدد های ورودی را بنویس.



۱۱ حاصل  $۳ \times ۳ =$  را با روش های مختلف به دست آورید؟